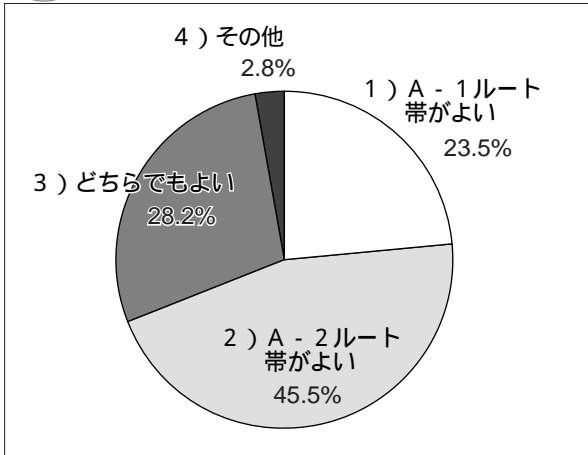


# ■望ましいルート帯について

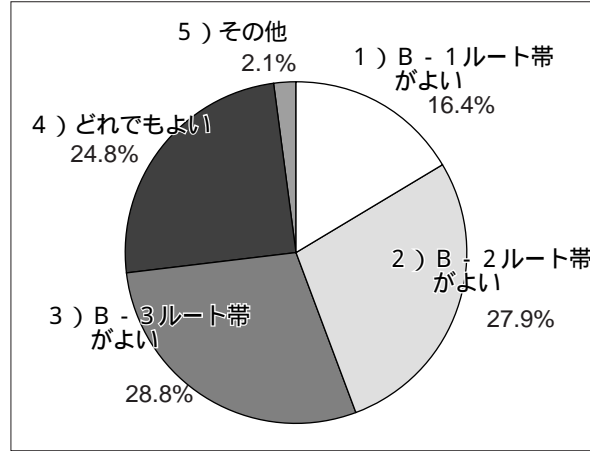
## □ A区間について

問18 あなたはA区間で示した2つのルート帯のうち、どちらが望ましいと思いますか



## □ B区間について

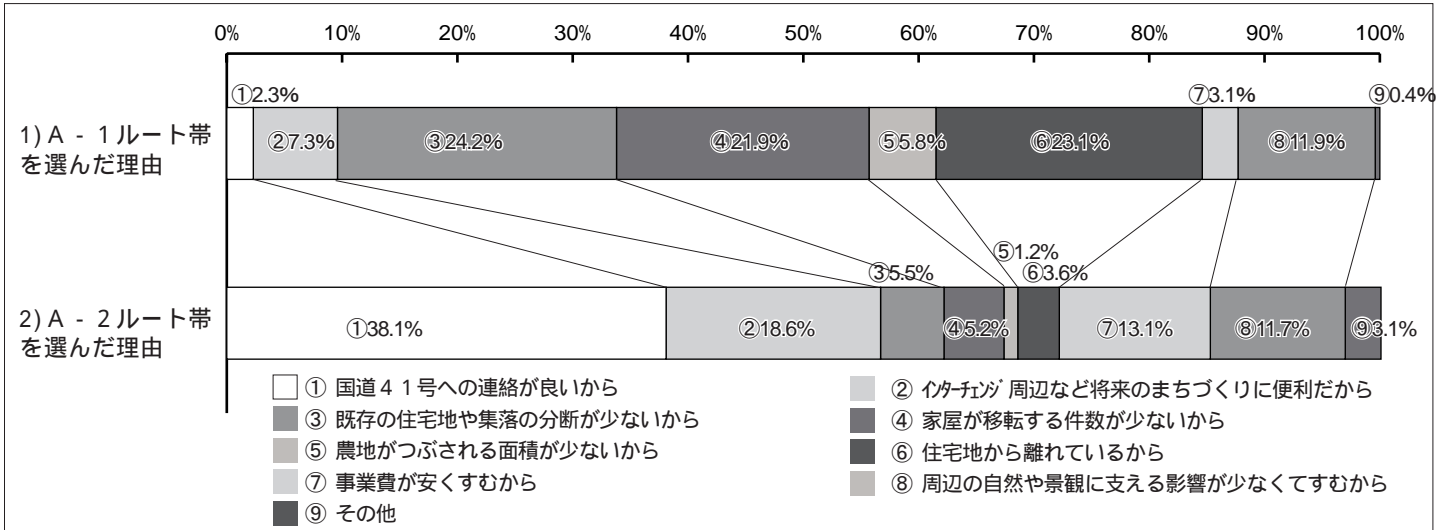
問19 あなたはB区間で示した3つのルート案のうち、どれが望ましいと思いますか。



A、B各区間のルート帯の位置は、2ページをご覧ください。



問20 問18で1)又は2)を選んだ方にお聞きします。あなたが選んだ理由は次のうちどれにあてはまりますか。(3つまで)



問21 問19で1)～3)を選んだ方にお聞きします。あなたが選んだ理由は次のうちどれにあてはまりますか。(3つまで)

